

SEQUÊNCIA

D I D Á T I C A



ESQUEMA CORPORAL

**E.M. "FARID SALOMÃO"
PRÉ-ESCOLA**

"EDUCAÇÃO INFANTIL ETAPAS I-A e I-B



**PROFESSORAS: JANAÍNA e
VÂNIA BISCIONE**



ESCREVA O SEU NOME:

(PARA CONHECIMENTO DOS PAIS)

Justificativa:

Esquema Corporal é o conhecimento do corpo como um todo e das partes que o compõem. Um bom desenvolvimento do esquema corporal pressupõe uma boa evolução da motricidade, das percepções espaciais e temporais, e da afetividade.

Objetivo Geral:

- Identificar as partes que compõem o corpo como um todo e observar cada parte isoladamente.
- Tomar consciência de si, de seus semelhantes e do meio em que vive.
- Coordenar o domínio do campo visual com a motricidade das partes do corpo.

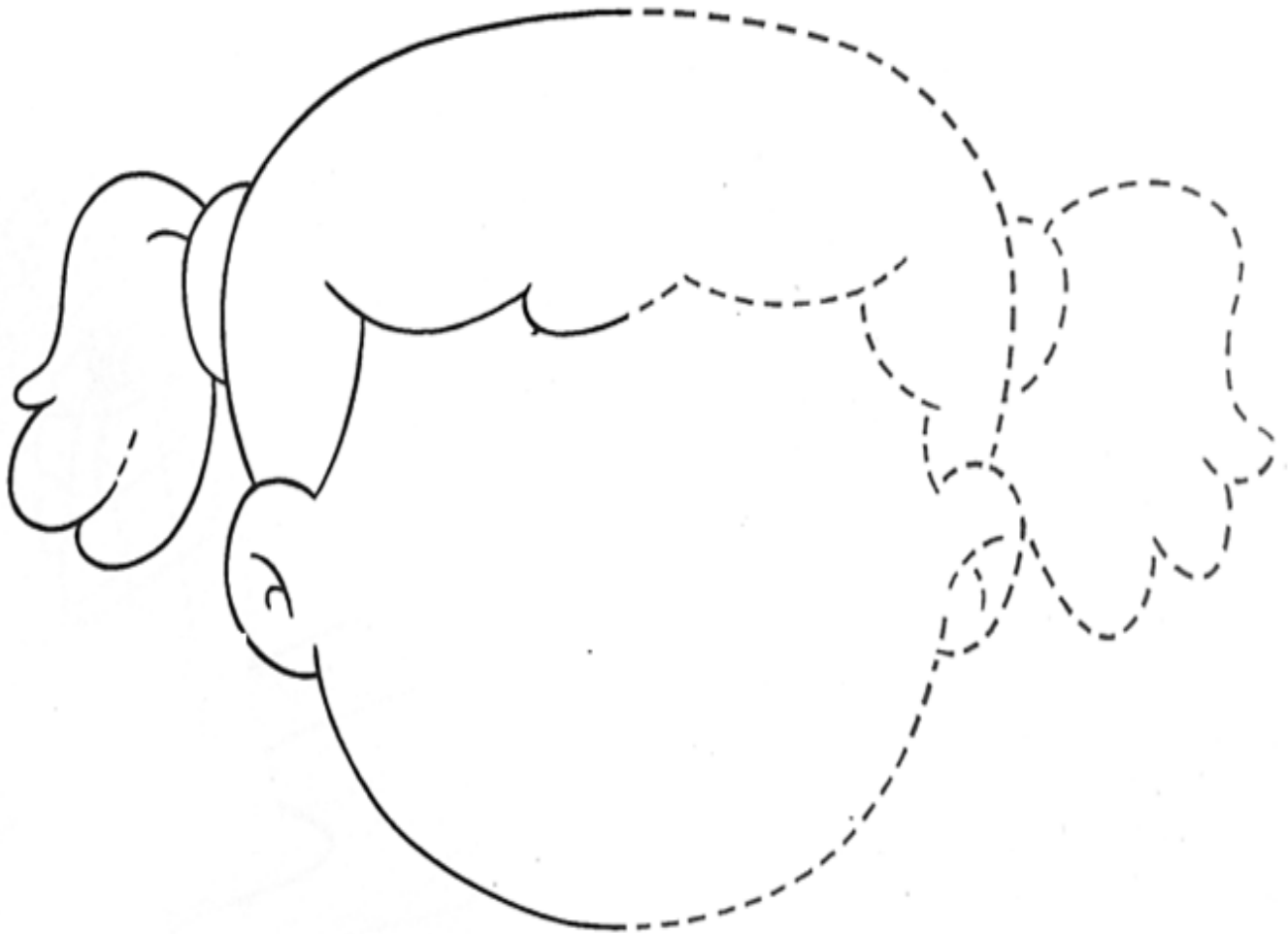
Objetivos específicos:

- Promover e estimular a linguagem oral;
- Desenvolver atenção, imaginação e a criatividade;
- Praticar a coordenação motora fina e ampla;
- Desenvolver a expressão corporal;
- Exercitar números e quantidades;
- Reconhecer e relacionar os números de 4 e 5;
- Desenvolver a leitura através da visualização de figuras;
- Exercitar as vogais;
- Dançar através de diversos ritmos;
- Identificar, conhecer e diferenciar as partes do corpo;
- Reconhecer o corpo, no seu todo, e diferenciar cada uma de suas partes, por meio do movimento
- Reconhecer e identificar os sentidos;
- Explorar os sentidos através do concreto;
- Reconhecer a importância da higiene para saúde;
- Desenvolver o hábito de higiene;
- Conhecer e identificar os materiais de higiene.



ESQUEMA CORPORAL

COMPLETE O QUE FALTA.



ESCREVA SEU NOME:

DATA: ____ / ____ 2021



ESQUEMA CORPORAL

NA CABEÇA ESTÃO OS: CABELOS, OLHOS, O NARIZ, A BOCA E OS OUVIDOS.

COMPLETE O QUE ESTÁ FALTANDO:



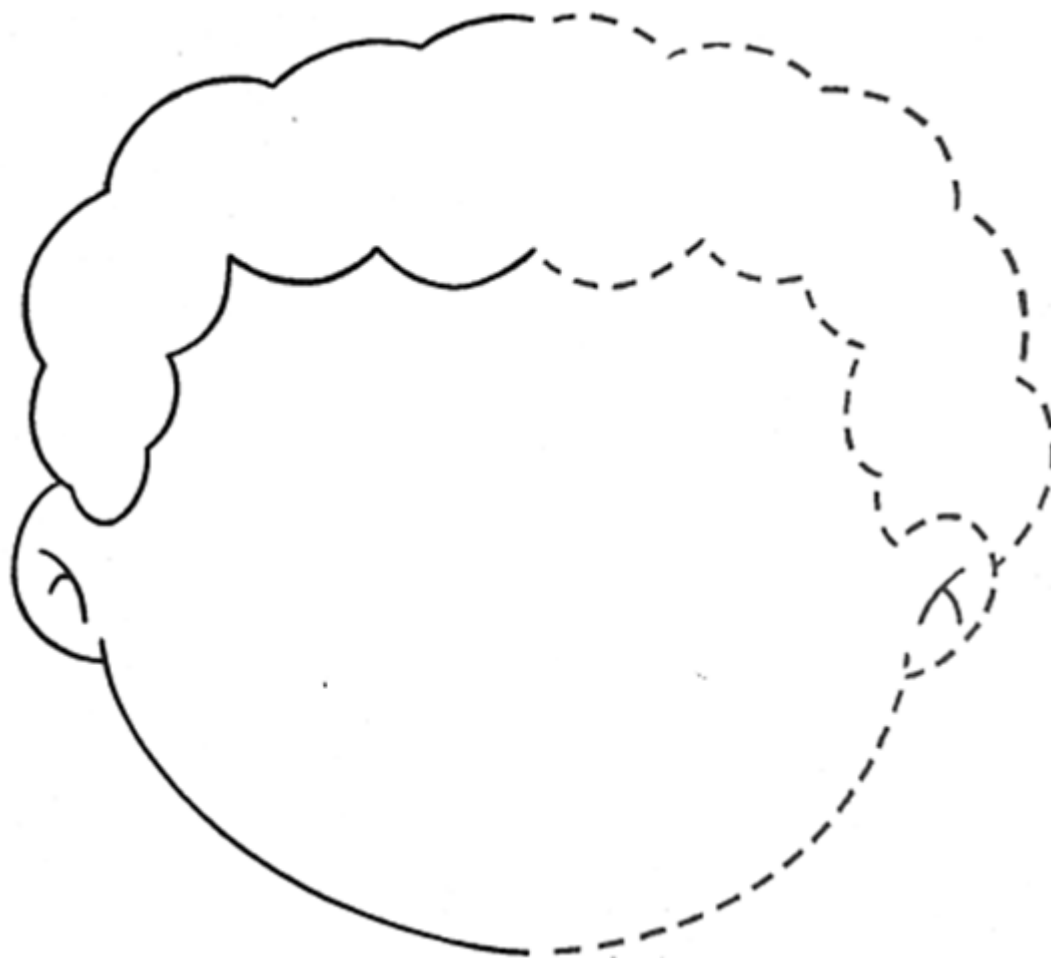
ESCREVA SEU NOME:

DATA: ____ / ____ 2021



ESQUEMA CORPORAL

COMPLETE O QUE FALTA.



ESCREVA SEU NOME:

DATA: ____ / ____ 2021




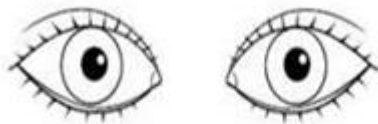
ESQUEMA CORPORAL

OBSERVE OS ELEMENTOS QUE COMPÕE O NOSSO ROSTO, DESENHANDO-OS NO ROSTO AO LADO:



O ROSTO

NOME: _____



DISTRIBUA OS PRINCIPAIS ELEMENTOS DO ROSTO




ESCREVA SEU NOME:

DATA: ____ / ____ 2021



ESQUEMA CORPORAL

DESENHE AS PARTES QUE ESTÃO FALTANDO NO CORPO DO BONECO E EM SEGUIDA FAÇA UM BONITO COLORIDO:




ESCREVA SEU NOME:

DATA: ____/____/2021



ESQUEMA CORPORAL

O QUE ESTÁ FALTANDO EM CADA ROSTINHO? OBSERVE E DESENHE O QUE FALTA:




ESCREVA SEU NOME:

DATA: ____/____/2021



ESQUEMA CORPORAL

COMPLETE O BONECO ATÉ FICAR PARECIDO COM VOCÊ:



ESCREVA SEU NOME:

DATA: ____/____/2021



A FAMÍLIA DE CHICO BENTO MORA EM UM SÍTIO.

**E.M. “FARID SALOMÃO”
PRÉ-ESCOLA**

ETAPAS 1-A e 1-B

PROFESSORAS: **JANAÍNA e
VÂNIA BISCIONE**

NOME:



CALENDÁRIO MARÇO

2021

DATAS COMEMORATIVAS:

DIA 8 - MULHER DIA 15 - ESCOLA DIA 20 - OUTONO

DOM	SEG	TER	QUA	QUI	SEX	SÁB
	1	2	3	4	5	6
7	8	9	10	11	12	13
14	15	16	17	18	19	20
21	22	23	24	25	26	27
28	29	30	31			

www.artedeensinar.org.br



APRENDENDO A CONTAR COM CHICO BENTO

Esta atividade educativa trabalha a coordenação motora fina das **crianças** possibilitando o desenvolvimento de suas habilidades artísticas, raciocínio lógico, criatividade e percepção visual.

- **Objetivo Geral** Fazer com que identifiquem os **números** e estabeleçam suas relações com a quantidade.
- **Objetivos Específicos** - Identificar e nomear os **números** de 0 a **10** - Estabelecer a relação/ correspondência do **número** e a quantidade - Possibilitar o desenvolvimento das percepções visuais, auditivas e sensório-motoras.

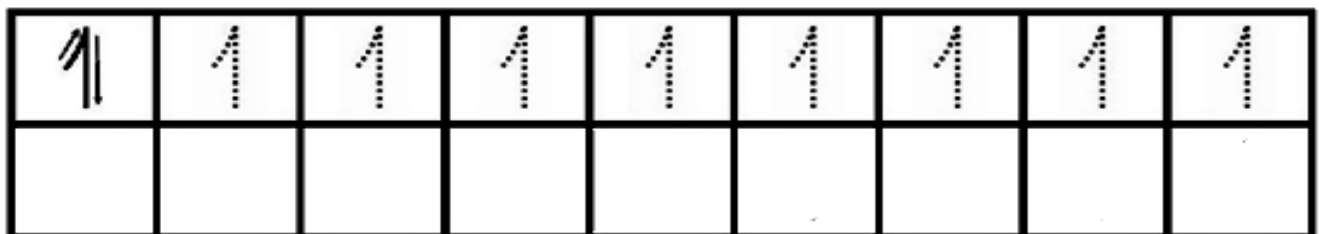


A FAMÍLIA DE CHICO BENTO MORA EM UM SÍTIO.

PINTE OS QUADRINHOS QUE TÊM O NÚMERO 1 ESCRITO CORRETAMENTE:



VAMOS TREINAR!




PINTE 1 CASINHA.




NOME:

DATA: ____ / ____ / 2021

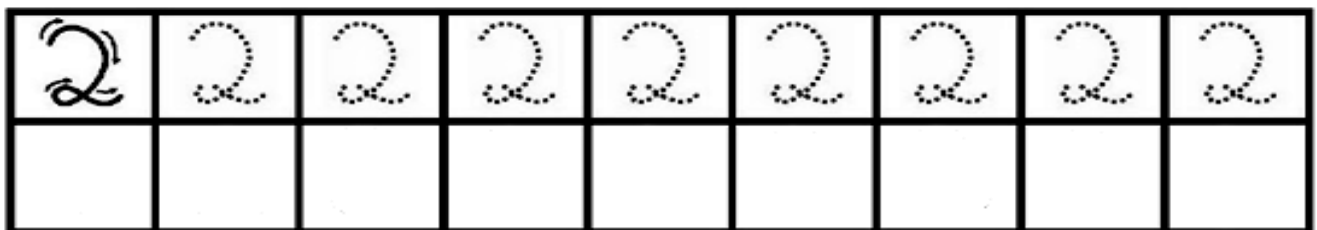


ELES TÊM DOIS TRATORES.

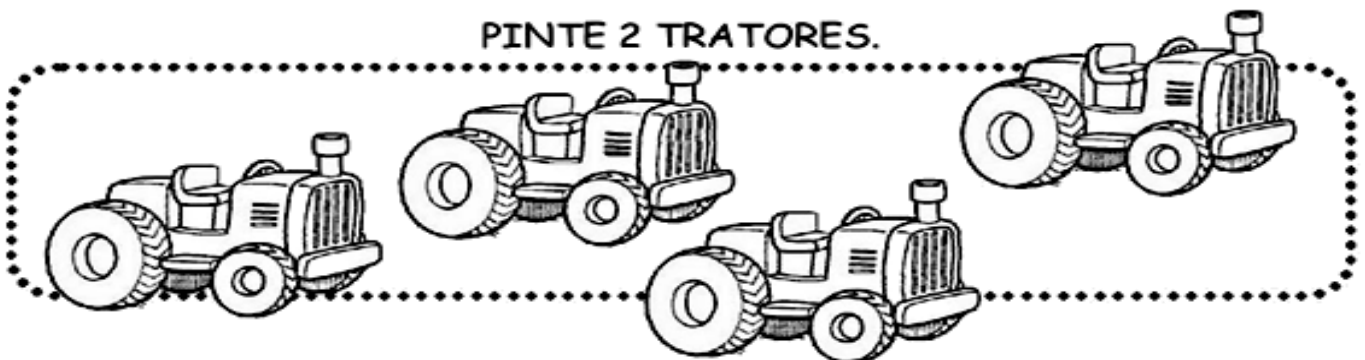
PINTE OS QUADRINHOS QUE TÊM O NÚMERO 2 ESCRITO CORRETAMENTE:



VAMOS TREINAR!



PINTE 2 TRATORES.



NOME:

DATA: ____ / ____ / 2021

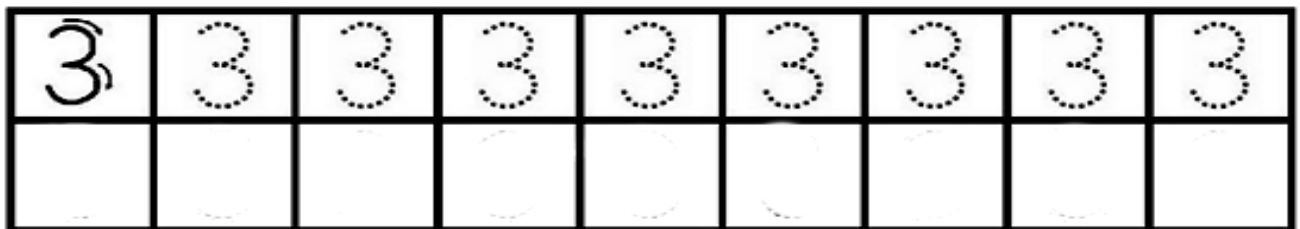


NO SÍTIO DE CHICO TEM TRÊS PORQUINHOS.

PINTE OS QUADRINHOS QUE TÊM O NÚMERO 3 ESCRITO CORRETAMENTE:



VAMOS TREINAR!



PINTE 3 PORQUINHOS.



NOME:

DATA: ____ / ____ /2021



NA LAGOA VIVEM QUATRO PATOS.

PINTE OS QUADRINHOS QUE TÊM O NÚMERO 4 ESCRITO CORRETAMENTE:



VAMOS TREINAR!



PINTE 4 PATINHOS.



NOME:

DATA: ____ / ____ / 2021



5

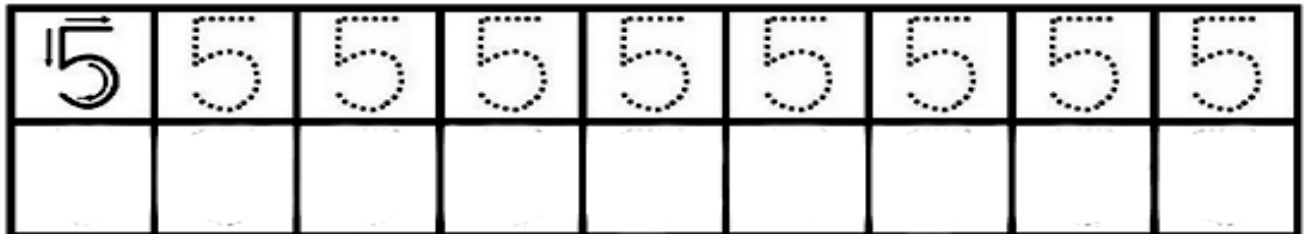


TÊM CINCO GALINHAS QUE PÕEM MUITOS OVOS.

PINTE OS QUADRINHOS QUE TÊM O NÚMERO 5 ESCRITO CORRETAMENTE:



VAMOS TREINAR!



PINTE 5 GALINHAS.



NOME:

DATA: ____ / ____ / 2021

DATAS COMEMORATIVAS


**E.M. “FARID SALOMÃO”
PRÉ-ESCOLA**

“EDUCAÇÃO INFANTIL - ETAPAS I-A e I-B”

**PROFESSORA: JANAÍNA e
VÂNIA BISCIONE**

ESCREVA O SEU NOME:

MEIO AMBIENTE – VAMOS CUIDAR PARA QUE A ÁGUA NÃO ACABE. PINTE
CADA GOTINHA DE ACORDO COM A QUANTIDADE INDICADA:
MEIO AMBIENTE - VAMOS CUIDAR PARA QUE A ÁGUA NÃO ACABE



ÁGUA



CADA




GOTA



CONTÁ



LEIA PARA SUA CRIANÇA AS INFORMAÇÕES ABAIXO E CONVERSE COM ELA:



ÁGUA

SE ECONOMIZAR


NÃO VAI FALTAR!

NÃO DEIXE A TORNEIRA ABERTA QUANDO ESTIVER ESCOVANDO OS DENTES.



UMA TORNEIRA ABERTA GASTA DE 12 A 20 LITROS/MINUTO

LAVAR O CARRO COM MANGUEIRA É UM DESPERDÍCIO DE ÁGUA!



LAVAR O CARRO COM UMA MANGUEIRA GASTA 600 LITROS DE ÁGUA. SÓ LAVE O CARRO UMA VEZ POR MÊS, COM BALDE DE 10 LITROS, PARA ENSABOAR E ENXAGUAR.

ENSABOAR COM CHUVEIRO LIGADO NÃO É LEGAL!



SE MOLHE, FECHÉ O CHUVEIRO, SE ENSABOE E DEPOIS ABRA PARA ENXAGUAR. NÃO FIQUE COM O CHUVEIRO ABERTO. O CONSUMO CAIRÁ DE 180 PARA 48 LITROS.

NUNCA LAVE A CALÇADA COM MANGUEIRA.

NA LIMPEZA DE QUINTAL E CALÇADA USE VASSOURA - SE PRECISAR UTILIZE A ÁGUA QUE SAI DO ENXÁGUE DA MÁQUINA DE LAVAR.



NOME: _____ DATA: _____ / _____ /2021

1- A ÁGUA É MUITO IMPORTANTE PARA A SOBRE VIVÊNCIA DO NOSSO PLANETA. DEVEMOS EVITAR O DESPERDÍCIO DA ÁGUA.

CIRCULE NO TEXTO A PALAVRINHA ÁGUA:



ÁGUA NA NATUREZA

ÁGUA PARA BEBER
ÁGUA PARA LAVAR
ÁGUA PARA REGAR
ÁGUA PARA NADAR

ÁGUA NOS LAGOS
ÁGUA NOS RIOS
ÁGUA DAS CHUVAS
ÁGUAS NOS MARES

O NOSSO PLANETA AZUL
É MESMO UMA BELEZA
DO NORTE ATÉ O SUL
TEM ÁGUA NA NATUREZA.

	G		
LETRA INICIAL		LETRA FINAL	NÚMERO DE LETRAS

ESCREVA SEU NOME:

DATA: _____ / _____ /2021

27 DE MARÇO – DIA DO CIRCO

- OBSERVE A PALAVRA ABAIXO
: RESPONDA:



CIRCO

QUANTAS LETRAS TEM A PALAVRA?

COMEÇA COM QUE LETRA?

TERMINA COM QUE LETRA?

PINTE AS VOGAIS QUE APARECEM NA QUADRINHA:

CHEGOU, CHEGOU
ESTÁ NA HORA DA ALEGRIA
O CIRCO TEM PALHAÇO
TEM, TEM TODO DIA



RESCREVA O SEU NOME:

DATA: ____ / ____ / 2021

COLORIR O PALHAÇO, OBSERVANDO AS LETRAS QUE INDICAM AS CORES:

27 DE MARÇO – DIA DO CIRCO



A – AMARELO D – VERDE
B – VERMELHO E – VERMELHO
C – AZUL F – LARANJA

ESCREVA O SEU NOME:

DATA: ____ / ____ / 2021